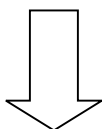
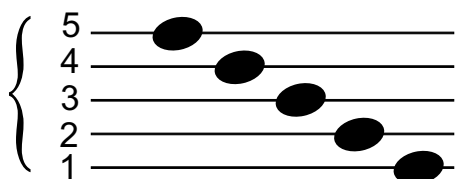
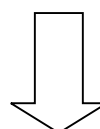
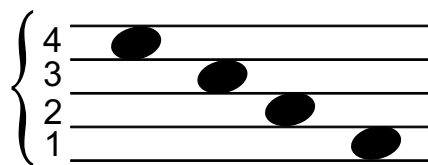


Unterscheide Linien- und Zwischenraumnoten



Liniennote

- 1. = A
- 2. = O
- 3. = R
- 4. = E
- 5. = W



Zwischenraumnote

- 1. = S
- 2. = N
- 3. = I
- 4. = T

Finde die Lösungsworte:

Erkenne auf welcher Linie oder in welchem Zwischenraum sich die Note befindet und suche den dazugehörigen Buchstaben!

